

گراد
گروه انتشارات

تازه‌های طعمستانه

دین گراد

پایه اول

ورودی به پایه دوم



خلاصه ای از تمام فصل های کتاب



۱ عزیزم! جدول زیر را بخوان.

او	ای	ای	آ	اُ	اِ	اَ	
دو	دی	دی	دا	دُ	دِ	دَ	د
صو	صی	صی	صا	صُ	صِ	صَ	ص
کو	کی	کی	کا	کُ	کِ	کَ	ک
طو	طی	طی	طا	طُ	طِ	طَ	ط

۲ هر کدام از تصاویر زیر مربوط به کدام پیام قرآنی است؟ وصل کن.



أَلْحَمْدُ لِلَّهِ

بِسْمِ اللَّهِ الرَّحْمَنِ الرَّحِيمِ

يَا بَنِيَّ اَقِمِ الصَّلَاةَ

وَبِالْوَالِدَيْنِ إِحْسَانًا

۳ سوره ی ناس را برای مادرت بخوان. (مادر گرامی: به میزان رضایت از گل ها رنگ بزنید.)



انتشارات گراد

صد آفرین مرحبا بچه ی خوب و دانا



۱) فرزندم! با توجه به تصویر زیر به سوالات پاسخ بده.




الف) چرا بچه هایی که در زیر درخت نشسته اند سایه ندارند؟

ب) چه زمانی کوتاه ترین سایه را داریم؟


ج) چه موقع نور خورشید مایل می تابد؟

۲) کدام یک ساقه ی خوراکی است؟



۳) کدام یک صدای هشدار دهنده است؟





ریاضی

۱ فرزند باهوشم! دور جمع و تفریق هایی را که جواب آن ها عدد داخل بادکنک است خط بکش.

۹

۱۰-۱
۷+۲
۴+۳
۵+۱
۱۸-۹
۹+۱
۹-۰
۶+۳

۱۷

۲۰-۳
۹+۳
۱۵+۲
۱۴+۵
۱۷+۱
۷+۷
۱۴+۳
۱۷-۲

۲ کامل کن.




یکی ده تایی می شود ۷۵
 ۹۳ می شود ده تایی یکی
 ۵۲ می شود یکی ده تایی
 ۳۰ می شود ده تایی
 ۷ تاده تایی می شود



۳ جدول را کامل کن.

۶	۱	۵	۹	۲	۸	۳	۷
۸	۵	۶		۳	۹	۴	۱
۹	۷	۱	۴	۸	۵	۲	
۳	۶	۹		۱	۲	۷	۴
	۴	۸		۶	۱	۹	۳
۲	۹	۷		۴	۶		۸
۴	۸	۳	۶	۵	۷	۱	۲
۱	۲	۴	۸	۹	۳	۶	۵
۵	۳		۱	۷		۸	۹



آن چیست که هم انسان دارد، هم تخم مرغ و هم جاده؟

- پوست
 شانه
 پا



۱ عزیزم! مرتب کن.






۲ متن را با دقت بخوان و جدول را کامل کن.

نام دایی یاسمن، یاسر است. او با دوستانش در بوستان، روی سبزه نشسته بود که ناگهان باران شدیدی شروع به باریدن کرد. صدای شر شر آب به گوش می رسید. دایی باماشین بابا به خانه آمد و کنار بخاری نشست.

ربط =	ی میانجی
-----	-----
-----	-----
-----	-----
-----	-----





املا (زنچیره ای)

فرزندم! مانند نمونه، صدای اول کلمه ی داده شده، صدای آخر کلمه ی بعدی باشد و تا پایان به همین صورت ادامه بده .

روان خوانی

متن زیر را بخوان و نتیجه ای را که گرفته ای بنویس .

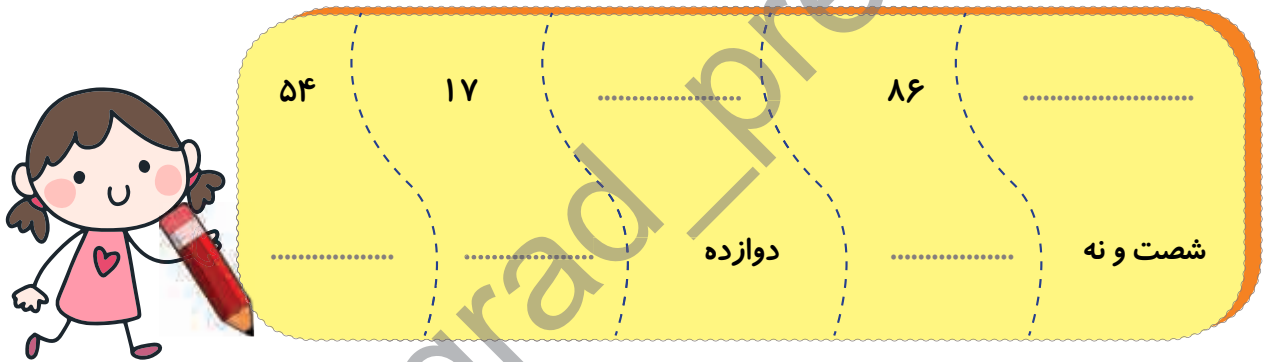
چوپانی ماری را از میان بوته های آتش گرفته نجات داد و در خورجین گذاشته و به راه افتاد . چند قدمی که گذشت مار از خورجین بیرون آمد و گفت: به گردنت بزدم یا به لبه ؟ چوپان گفت : سزای خوبی این است؟ مار گفت : سزای خوبی بدی است !!! و قرار شد تا از کسی سوال کنند ، به روباهی رسیدند و او پرسیدند . روباه گفت : من تا صورت واقعه را نبینم نمی توانم حکم کنم . برگشته و مار را درون بوته های آتش انداختند . مار به استمداد بر آمد و روباه گفت : بمان تا رسم خوبی از جهان برافکنده شود .
نه باید مثل چوپان خوب بود . نه مثل مار بد . باید مثل روباه بود و دانست چه کسی ارزش خوبی کردن دارد!

(کلیله و دمنه)

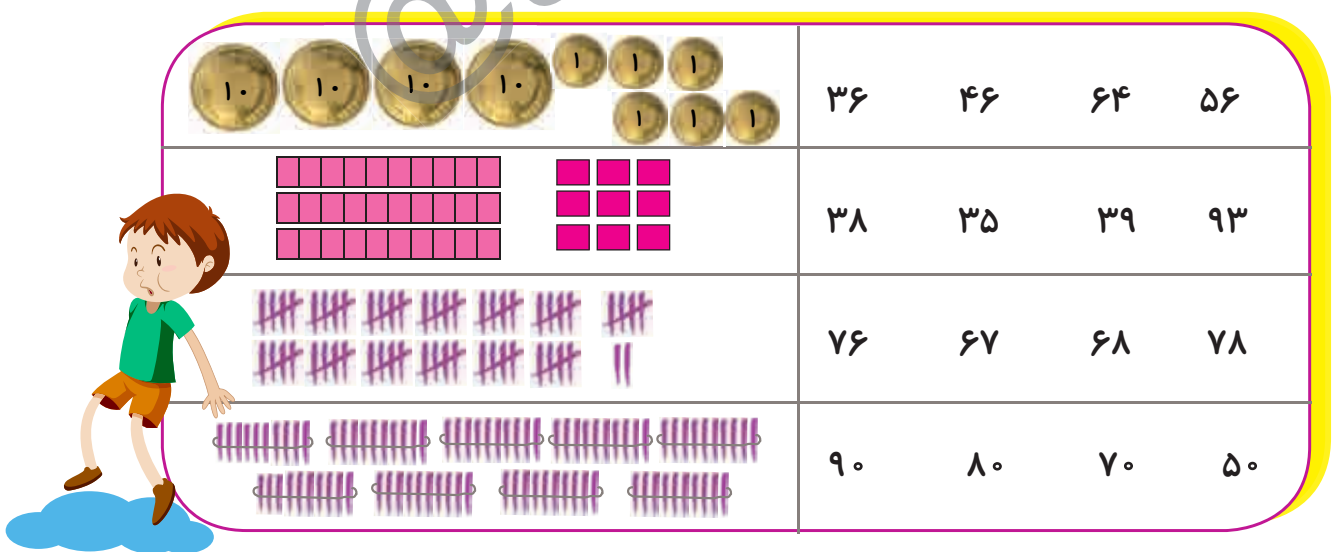
۲ با توجه به موارد داده شده عقربه های ساعت را بگذار .




۳ به عدد و حروف بنویس .



۴ به شکل ها نگاه کن و دور عدد درست را خط بکش .





۱ دلبندم! چه کارهایی باعث سلامتی و شادابی می شود؟



۲ وصل کن.

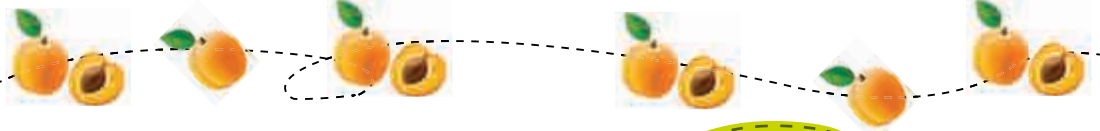


خوراکی های مفید




خوراکی های غیر مفید






سرگرمی (آموزش نقاشی)



ریاضی


۱ نازنینم! بخوان و شماره ها را از کوچک به بزرگ مرتب کن ، سپس به حروف بنویس .


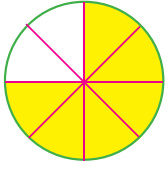
عدد



حروف

۲ با دو رقم (۴ و ۷) چه عدد هایی می توان نوشت ؟





۶ هر شکل را به جمله ی مربوط به خودش وصل کن .


۲ قسمت از ۴ قسمت مساوی ، رنگ شده است .

۱ قسمت از ۴ قسمت مساوی ، رنگ شده است .

۶ قسمت از ۸ قسمت مساوی ، رنگ شده است .



۷ شکل های زیر را به قسمت های مساوی تقسیم کن .



سرد گرمی

تفاوت تصاویر را پیدا کن .



علوم

۱ اگر خواسته باشیم میز را راحت جابه جا کنیم بهتر است چه کاری را انجام دهیم ؟



.....

.....

دوست داری در آینده چه شغلی داشته باشی و چرا؟ در سه سطر بنویس.



سرگرمی (آموزش نقاشی)



ریاضی

۱ گلم! جمع عدد ۱۰ را به صورت سطری، ستونی و مورب پیدا کن. (مثل نمونه)

۶	۴	۷	۵	۵
۲	۸	۳	۶	۲
۹	۱۰	۴	۹	۷
۱	۰	۸	۳	۴
۶	۵	۶	۹	۶
۳	۷	۱	۵	۵
۴	۷	۳	۸	۲



به اندازه ی پر سبک هستیم. اما قوی ترین آدم ها هم نمی توانند بیشتر از پنج دقیقه من را نگه دارند.

من چیستم؟ کاه پنه نفس کاغذ



فارسی



۱ نازنینم! برای هر کلمه ، دو جمله بنویس که معنی متفاوت داشته باشند .

سیر:

سیر:

شیر:

شیر:



۲ کامل کن .



۳ با توجه به متن ، جدول را کامل کن .

رضا با شنیدن صدای اذان کنار حوض وضو می گیرد . او بعضی وقت ها به مسجد می رود . پدرش قاضی است و هر روز به موقع در محل کارش حاضر می شود . رضا برای ادامه ی تحصیل به رشته ی فغانوردی علاقه مند است . او در درس ریاضی توانایی بالایی دارد .



پنج نقطه

.....
.....
.....
.....

چهار نقطه

.....
.....
.....
.....

سه نقطه

.....
.....
.....
.....

دو نقطه

.....
.....
.....
.....

یک نقطه

.....
.....
.....
.....



طعم تابستانه ی گراد

املا


دلبندم! متن را بخوان و به پدر یا مادر املا بگو.

روز میلاد پیغمبر (ص) نزدیک غروب بود که خیابان هارا با کاغذها و چراغ های رنگی آراسته بودند. شهر بسیار شلوغ بود. اصغر از مغازه بیرون آمد و باغبانی را با یک سبد گل دید که به مردم هدیه می داد. او یک غنچه ی زیبا هم به اصغر داد. اصغر باغبان را بوسید و از او تشکر کرد.

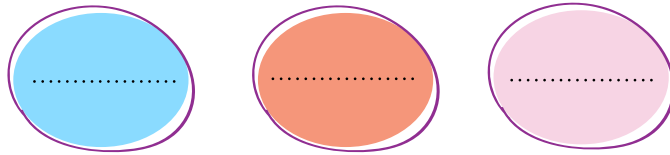


@grad_press

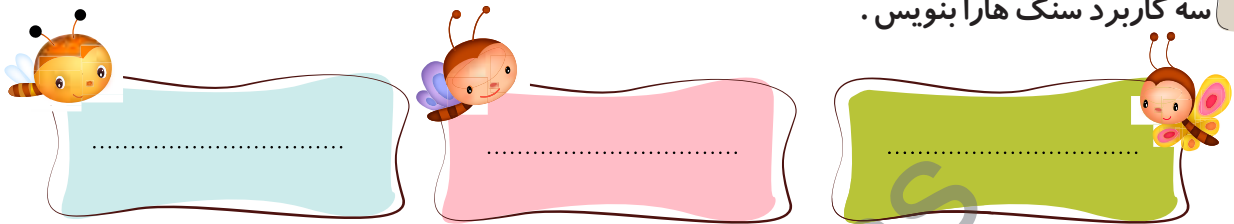
Handwriting practice lines within a large blue dashed circle.



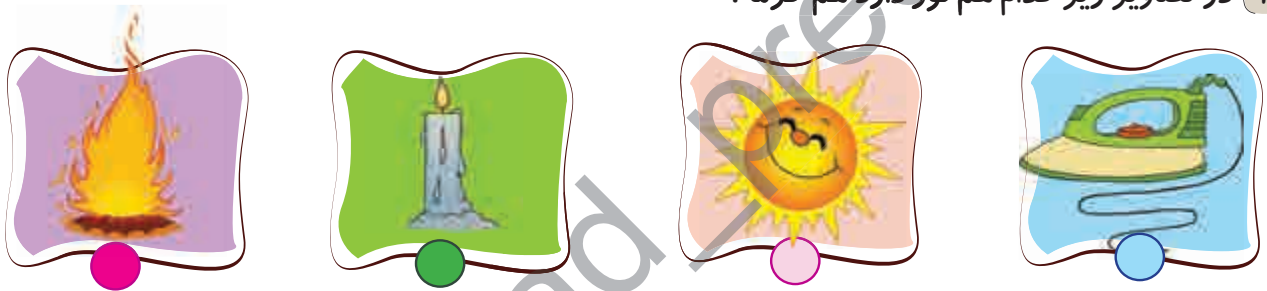
۱ فرزند دانشمندم! چند نوع سنگ قیمتی را نام ببر.




۲ سه کاربرد سنگ هارا بنویس.



۳ در تصاویر زیر کدام هم نور دارد هم گرما؟



۴ مهم ترین استفاده ی باد و آب کدام مورد است؟



۵ پوشیدن لباس رنگ مناسب تابستان و رنگ مناسب زمستان است.

۶ کدام وسیله برای روشن شدن به باتری نیاز دارد؟

